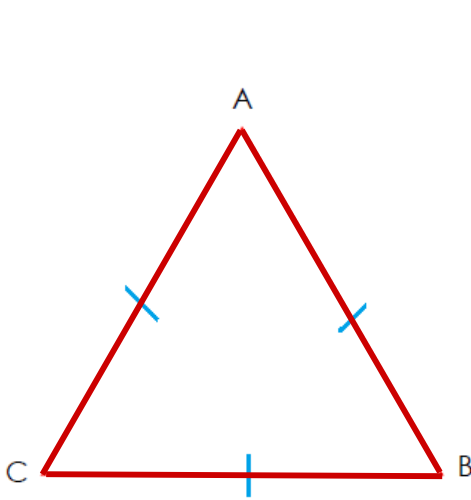
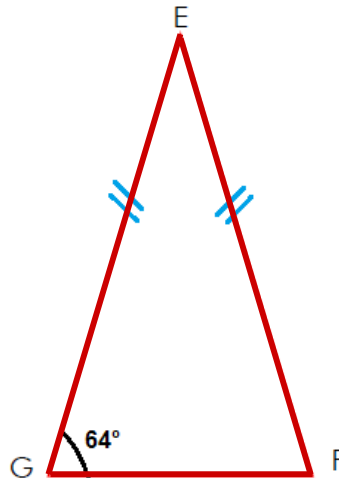


التمرين الثالث:

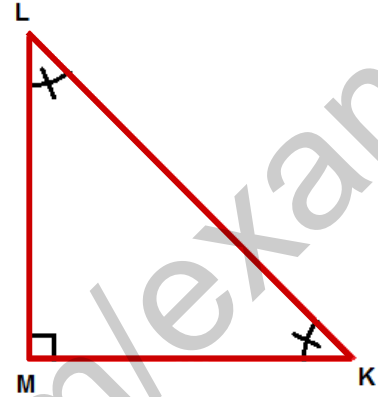
أ/ لاحظ الأشكال ثم أكمل الجدول:



الشكل 3



الشكل 2



الشكل 1

3	2	1	الشكل
			نوعه
			التعليل

ب/ استنتج :

من الشكل الأول قيس الزاويتين:

$$\angle LMK = \dots\dots\dots$$

$$\angle LKM = \dots\dots\dots$$

من الشكل الثاني قيس الزاويتين:

$$\angle EFG = \dots\dots\dots$$

$$\angle GFE = \dots\dots\dots$$

وفقكم الله ☺