

فرض تقويمي للثلاثي الأول في مادة التاريخ و الجغرافيا

التاريخ :

الجزء الأول :

السؤال الأول :

قدم تعريفا مختصرا للمصطلحات التالية من خلال ربط كل مصطلح بمفهومه الصحيح مع إعطاء مثال عن كل مصطلح

مسطر في الخانة المناسبة :

علم الآثار - المواقع الأثرية - التأريخ - الآثار

.....	هي أماكن عاش فيها الإنسان القديم مثل	←
.....	هو تسجيل الأحداث و تدوينها بعد ظهور الكتابة مثل	←
.....	يختص بدراسة الآثار باستعمال طرق عديدة لتصنيفها و تزمينها مثل	←
.....	هو كل المخلفات التي تركها الإنسان القديم مثل	←

السؤال الثاني :

1/ ضع البيانات التالية في الفراغات المناسبة : ممارسة الزراعة - اكتشاف النار - ابتكار الكتابة - اكتشاف المعادن .

2/ أكمل السلم الزمني بعصور ما قبل التاريخ المناسبة .

3200 ق م

5000 ق م

8000 ق م

12000 ق م



ظهور

الإنسان

الجزء الثاني :

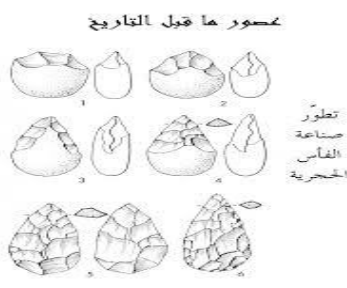
الوضعية الإدماجية :

السياق : تناقش زميلين لك حول حياة الإنسان فيما قبل التاريخ , فاتفقا حول تطوره من عصر لآخر لكنهما اختلفا حول نمط معيشته خلال مراحل ذلك التطور , فطلبا منك التدخل بتوضيح مراحل تطور معيشة إنسان ما قبل التاريخ و تحديد خصائص كل مرحلة .

السندات :

1/ "....مرت معيشة الإنسان في فترة ما قبل التاريخ بمرحلتين....."

2/



التعليمة : اعتمادا على السندات و مكتسباتك , أكتب فقرة من 07 أسطر تجيب فيها عن زميليك .

.....

.....

.....

.....

.....

.....


.....

.....

الجغرافيا

1/ أكمل الفراغات فيما يلي بما يناسبها :

يحتل كوكب الارض المرتبة في المجموعة الشمسية , شكلها
 و الادلة التي تثبت ذلك عديدة منها
 مساحتها تغطي منها اليابسة % و الماء %




2/ صحح العبارات الخاطئة مما يلي :

- خطوط الطول و دوائر العرض هي خطوط حقيقية .
- يمتد مدار السرطان جنوب خط الاستواء و مدار الجدي جنوبه .
- درجة خط غرينيتش 0°

3/ لؤن بلون من اختيارك المساحة الواقعة بين خطي طول 15° شرقا

و 10° غربا و بين دائرتي عرض 15° شمالا و 5° جنوبا .



3/ إذا كانت الساعة في المدينة أ الواقعة عل خط غرينتش 09 صباحا فكم تكون حينها في المدينة ب الواقعة على خط طول 45° غربا

.....

.....

.....

.....

.....

