

| | | |
|--------|---|---|
| النقطة |  | وضعية التقويم لثلاثي الثالث في مادة التاريخ و الجغرافيا |
| | | متوسطة ميسوم حسين عين تدمين 2017/2016 |
| | | الاسم: |
| | | القسم سنة أولى متوسط رقم: |

الجزء الأول تاريخ: (10 نقاط)

الوضعية الأولى:

السياق: عرف القارات عالم حضارات قديمة متعددة تأثرت و أثرت في بعضها البعض

التعليمة:

س1- عرف المصطلحات التالية:

الحضارات:

.....

.....

تشريعات حمو رابي:

.....

.....

س3- اربط بين كل حضارة و اهم منجزاتها

| | |
|---------------------|---------------------|
| الحضارة المصرية | تشريعات حمو لرابي |
| الحضارة القرطاجية | المسارح و المعابد |
| الحضارة اليونانية | الأهرامات |
| الحضارة الرومانية | الكتابة المسمارية |
| حضارة بلاد الرافدين | الإلياذة و الأوديسة |

س2- حدد على الخريطة حضارات العالم القديم (المصرية- القرطاجية- بلاد الرافدين- الرومانية -اليونانية)



وضعية إدماجية:

وضعية الثانية: (04ن)

السياق: شهدت خريطة حضارات قديمة فشد انتباه حضارتين قمتا في قارة افريقيا المصرية و القرطاجية فقررت البحث عن مميزات الحضارتين

السند1: قامت الحضارة المصرية في مصر و الحضارة القرطاجية بتونس شمال قارة افريقيا.

السند2:



التعليمة:

اعتمادا على السند و على ما درست اكتب فقرة من 6 اسطر تقدم فيها تلخيصك

الفقرة

.....

.....

.....

.....

.....

.....

الجزء الثانى جغرافيا:

السياق: يسود العالم ثلاث نطاقات مناخية كبرى الباردة و الحارة و المعتدلة تأقلم معها الانسان فتأثر بها و أثر فيها.

س1- اشرح ما يلي:

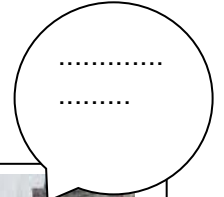


البيئة الاستوائية:.....

البيئة المدارية :.....

الزراعة الواسعة:.....

.....

س4- أذكر نوع التلوث من الصور؟



الوضعية الادماجية

التعليمية: من خلال الصور و ما درست أكتب فقرة عن أخطار التلوث و قدم حلول لها

الفقرة:

.....

.....

.....

.....

.....