

الاسم : اللقب : القسم :


الفرض الأول للفصل الثالث

التمرين الاول: تمعن في الشكل ثم أجب

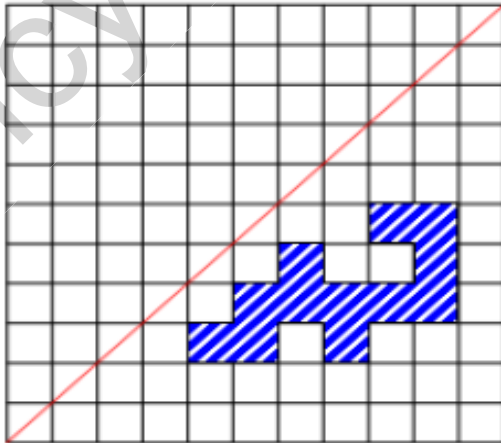
- 1/ أكمل كتابة التدريجات.  
 2/ فاصلة النقطة H هي: ..... أي: ( H )  
 فاصلة النقطة B هي: ..... أي: ( B )  
 3/ علم النقاط التالية على المستقيم السابق:  
 D(+1,5) ; S(-01) ; M(+2,5)  
 4/ علم النقطة K بحيث B منتصف القطعة [OK].  
 5/ فاصلة النقطة K هي: ..... أي: ( K )

التمرين الثاني:

- 1/ أرسم معلم متعامد للمستوي مبدأه O.  
 2/ علم عليه النقاط التالية:  
 A(+4 ;+3) ; D(-2 ;+3) ; C(-2 ;-3) ; M(+1 ;0)  
 3/ ما هو نوع المثلث ADC؟



التمرين الثالث: ارسم نظير الشكل في المرصوفة اسفله



الاسم : اللقب : القسم :

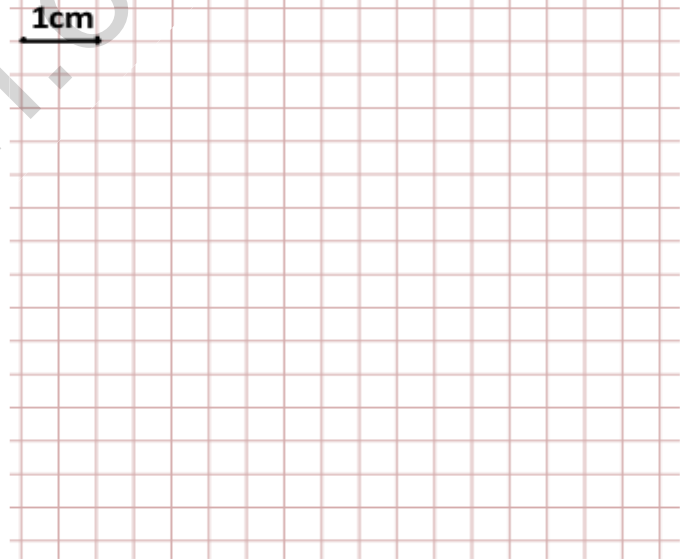
الفرض الأول للفصل الثالث

التمرين الاول: تمعن في الشكل ثم أجب

- 1/ أكمل كتابة التدريجات.  
 2/ فاصلة النقطة H هي: ..... أي: ( H )  
 فاصلة النقطة B هي: ..... أي: ( B )  
 3/ علم النقاط التالية على المستقيم السابق:  
 D(+1,5) ; S(-01) ; M(+2,5)  
 4/ علم النقطة K بحيث B منتصف القطعة [OK].  
 5/ فاصلة النقطة K هي: ..... أي: ( K )

التمرين الثاني:

- 1/ أرسم معلم متعامد للمستوي مبدأه O.  
 2/ علم عليه النقاط التالية:  
 A(+4 ;+3) ; D(-2 ;+3) ; C(-2 ;-3) ; M(+1 ;0)  
 3/ ما هو نوع المثلث ADC؟



التمرين الثالث: ارسم نظير الشكل في المرصوفة اسفله

